

**Нурлан Рахманов атындагы
орто мектеби**

«МАТЕМАТИКА»

1-класс

1-декабрь 2022-жыл



**Н.Рахманов атындагы орто мектебинин
башталгыч класстардын мугалими:
Жонгучкаева Жылдыз**

- Эрте турду күн бүгүн,
Терезеден баш бакты,
Бизди класска чакырды
Математика сабакка!




- **Математика сабагына кош келиңиздер!!!**

-Бүгүнкү математика сабагына кандай маанай менен келдиңер?

-Кана светофордун белгилеринен көрсөтүп койгулачы.

-Сабактын аягына чейин маанайынардын ачык болуусун каалайм!!!



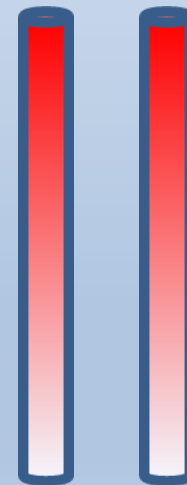
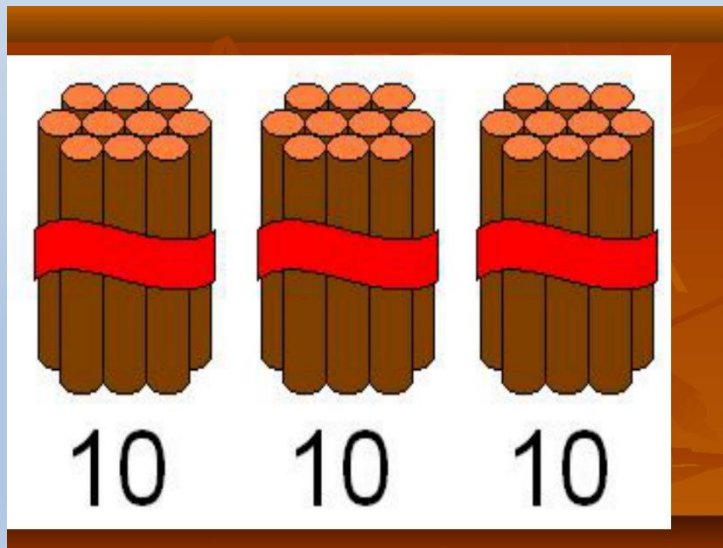
АЛТЫН ЭРЕЖЕ

1. Кунт коюп угуу
2. Кол көтөрүп жооп берүү
3. Ар бир ойду баалоо
4. Тартип бузбоо
5. Сабакка активдүү катышуу.



Сабактын темасы:

- Ондуктар жана бирдиктер



Сабактын максаты:


- **Ондуктар жана бирдиктерди айырмалап, эки орундуу санды жазууга даярданабыз.**
- **Өтүлгөн темаларды кайталайбыз.**




Баалоонун критерийлери:

- Геометрикалык фигураларды таанып, атай алсаңар.
- Сандардын ордун таба алсаңар
- Буюмдарды санап, аларды ондук бирдиктерге ажырата алып, жаза алсаңар.
- Күнүмдүк турмуштан мисал келтире алсаңар.
- Маселе чыгара алсаңар.
- Өз алдынча корутунду чыгара алсаңар.
- Өз алдынча иштей алсаңар.
- «Алтын эрежени» колдонсоңор.





Фигуралар шаары



Топтордун аттарын жактоо

- 1-топ «Квадрат»
- 2-топ «Тик бурчтук»
- 3-топ «Тегерек, айлана»
- 4-топ «Үч бурчтук»
- 5-топ «Сызыктар»

Сандар шаары





1

8



6

7





Ондуктар жана бирдиктер шаары



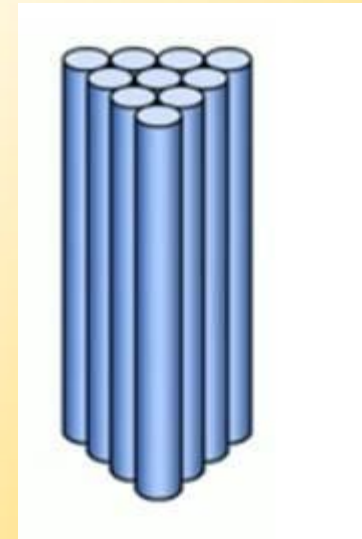
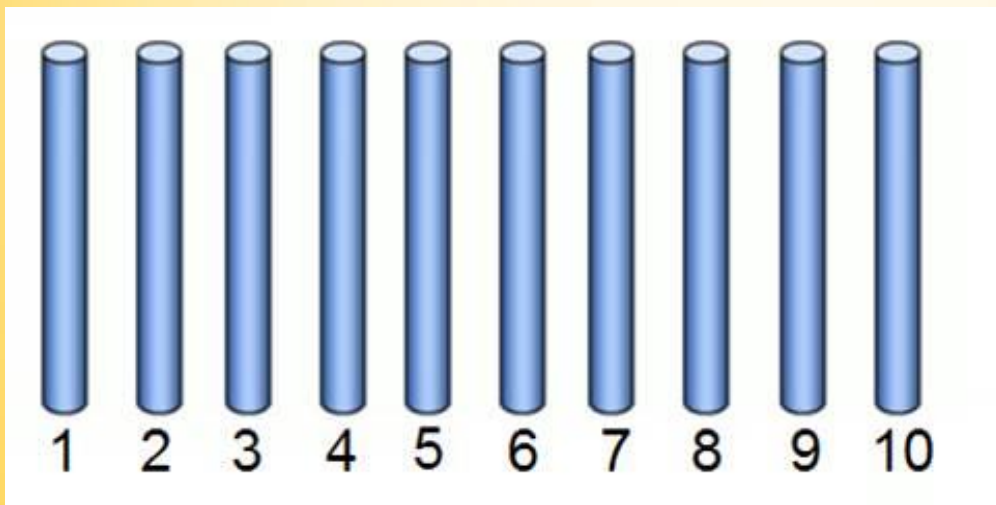
Кайсы сандар ашык?

5

8


10

6

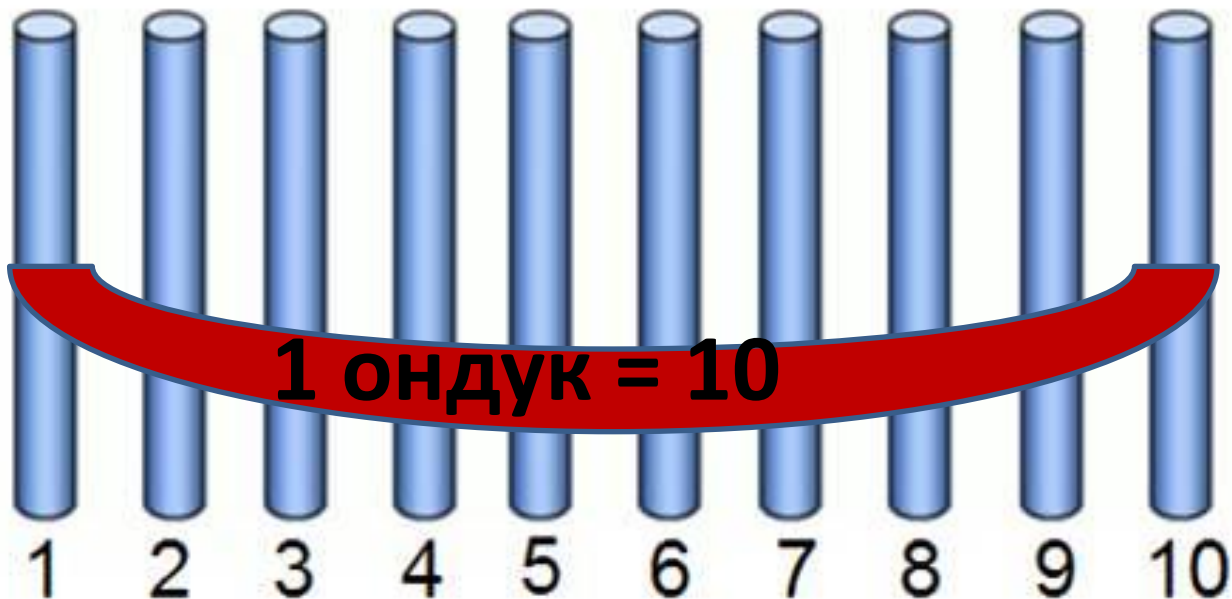


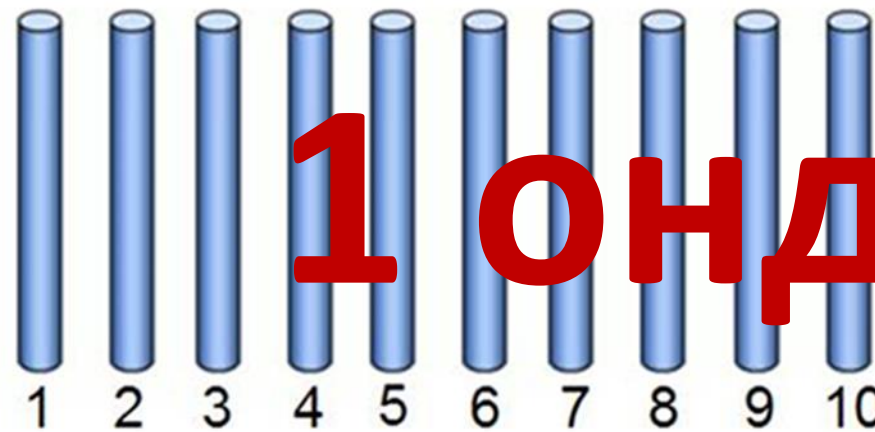
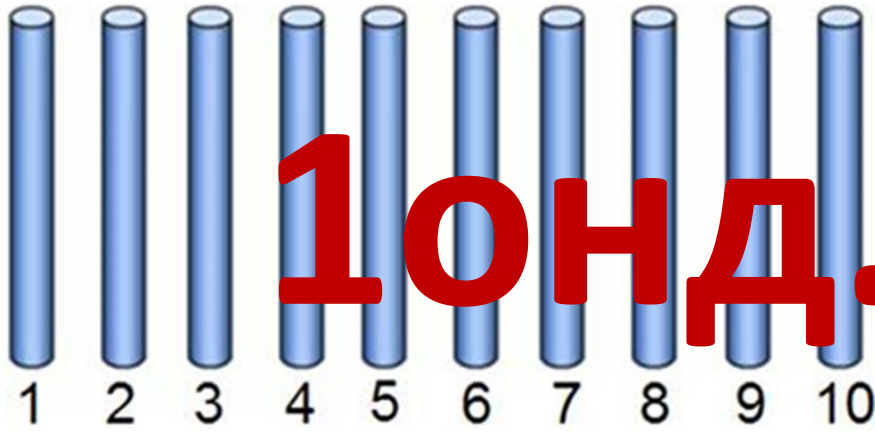
**10 бирдик =
1 ондук**

Биз жашоодо «ондуктарды» кайдан жолуктурабыз ?




Ондуктар менен эсептөө





2 онд.6



Тема боюнча жыйынтык чыгарабыз

Ар кандай он буюмду – **БИР ОНДУК**
десек болот.

Ал эми калганы бирдик болот.

Кыскартып минтип жазсак болот.

Мисалы: 1 онд. 5

2 онд. 9

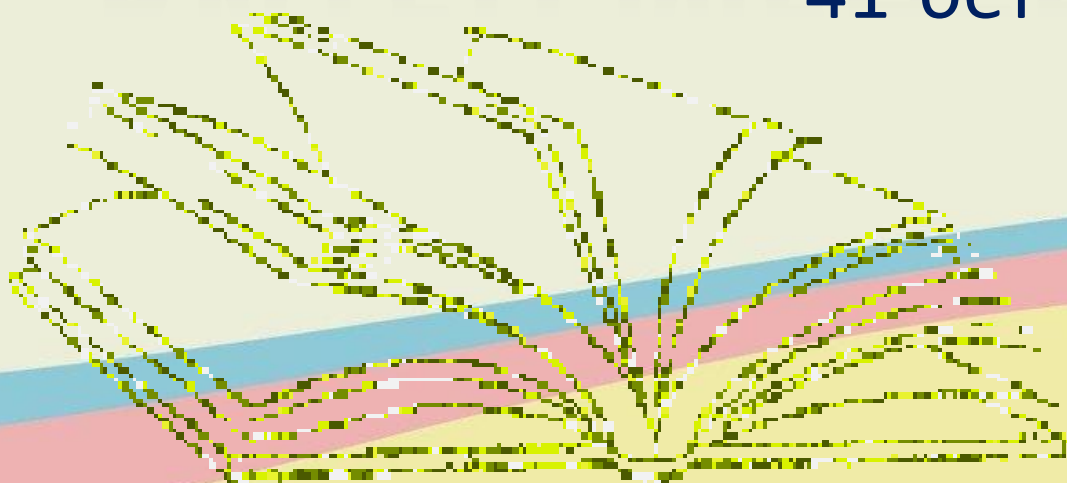
Физминутка

*Күк-күк паровоз,
Күш-күш паровоз.
Вагондордун баары дос.
Качан сени билемин.
Качан сени минемин.
Күк-күк паровоз,
Күш-күш паровоз.*





КИТЕП МЕНЕН ИШТӨӨ



41-бет




1.



2 онд. 3



3 онд. 4




1 онд. 2

Дептер менен иштөө 48-бет



Ондук

Бирдиктер



1 онд.


3



Үйгө тапшырма


Үйдөгү буюмдардан кандай ондуктарды тузсө болот экенин билип келебиз.

Дептердин 48-бетиндеги №7-мисалды же №8-мисалды иштеп келгиле.



Рефлексия

Өзүңөрдүн бүгүнкү сабактагы ишиңерди баалагыла.



- жашыл- баары түшүнүктүү
- Сары кыйынчылыктар болду
- кызыл -көп нерсе түшүнүксүз